



OA	21
Unidad	Números
Guía	Comparemos cantidades

GUÍA N° 1 PLAN XV MATEMÁTICA

Comparemos cantidades o medidas



Meta: Comparar números de hasta 4 cifras.

Exploro

Si queremos saber qué persona es más alta, debemos comparar la medida de sus estaturas. Observa la estatura de Antonio y Teresa. ¿Quién tiene mayor estatura?



Antonio mide 150 cm



Teresa mide 145 cm

Modelo

C	D	U
1	5	0

C	D	U
1	4	5

- Al comparar las centenas: ambas son iguales (1C = 1C)
- Al comparar las decenas: el 5 es mayor que 4 (5D > 4D)
- Las unidades: ya no es necesario compararlas porque ya sabes cuál es mayor

Respuesta: Antonio tiene la estatura más alta

Al comparar puedes utilizar la tabla posicional, ubicando los dígitos en su posición (Centena, Decena o Unidad), comparando de izquierda a derecha.

Practico

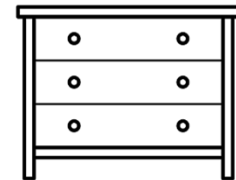
1. Recuerda seguir el modelo para responder las siguientes actividades.

a) En una sala de clases hay dos muebles. Observa sus alturas y compara. ¿Qué mueble es más alto?



C	D	U
1	9	8

C	D	U
1	2	9



Mueble 1 mide 198 cm de alto.

Mueble 2 mide 129 cm de alto.


- Al comparar las centenas: _____

- Al comparar las decenas: _____

- Al comparar las unidades: _____

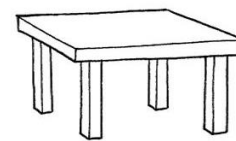
Respuesta: _____

b) En el comedor del colegio hay dos mesas. Observa sus largos y compara. ¿Qué mesa mide menos?



C	D	U
2	2	5

C	D	U
3	3	3



Mesa 1 mide 225 cm de largo.

Mesa 2 mide 333 cm de largo.


- Al comparar las centenas: _____

- Al comparar las decenas: _____

- Al comparar las unidades: _____

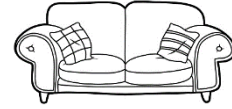
Respuesta: _____

c) En la casa de Matías hay 2 sofás. Observa sus anchos y compara. ¿Qué sofá es más ancho?



C	D	U
4	1	6

C	D	U
4	1	9



Sofá 1 mide 416 cm de ancho.

Sofá 2 mide 419 cm de ancho.


- Al comparar las centenas: _____

- Al comparar las decenas: _____

- Al comparar las unidades: _____


Respuesta: _____

d) Cerca de un colegio hay 2 edificios. Observa sus alturas y compara. ¿Qué edificio es más bajo?



C	D	U
9	8	9

C	D	U
9	8	9



Edificio 1 mide 989 cm de alto.

Edificio 2 mide 989 cm de alto.

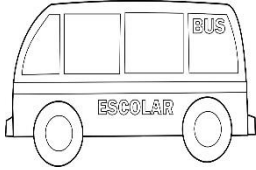
- Al comparar las centenas: _____

- Al comparar las decenas: _____

- Al comparar las unidades: _____


Respuesta: _____

e) Mi escuela tiene 2 mini furgones para transportar solo carga. Observa sus anchos y compara. ¿Qué furgón es más ancho?



C	D	U
9	7	6

C	D	U
9	7	1



Furgón 1, mide 976 cm de ancho.

Furgón 2, mide 971 cm de ancho.

- Al comparar las centenas: _____

- Al comparar las decenas: _____

- Al comparar las unidades: _____


Respuesta: _____

f) En el patio de mi casa hay 2 árboles. Observa sus alturas y compara. ¿Qué árbol es más alto?



C	D	U
7	6	8

C	D	U
7	7	9



Árbol 1 mide 768 cm.

Árbol 2 mide 779 cm.

- Al comparar las centenas: _____

- Al comparar las decenas: _____

- Al comparar las unidades: _____

Respuesta: _____

2. Compara las siguientes cifras y luego completa con los símbolos $>$, $<$ o $=$, según corresponda.

a) 150 <input type="text"/> 180	b) 223 <input type="text"/> 233	c) 400 <input type="text"/> 500
d) 739 <input type="text"/> 719	e) 38 <input type="text"/> 638	f) 439 <input type="text"/> 493
g) 888 <input type="text"/> 777	h) 821 <input type="text"/> 812	i) 93 <input type="text"/> 311
j) 121 <input type="text"/> 123	k) 980 <input type="text"/> 1 000	l) 644 <input type="text"/> 644

3. Resuelve el problema, usando la comparación para buscar tu respuesta.

a) Carlos cosechó 526 kilos de papas en su campo y Sofía cosechó 536 kilos de papas en su terreno. ¿Quién cosechó menos kilos de papas?

Respuesta: _____

Evaluación

Marca con una X sobre la alternativa correcta.

1 La cama de Martín mide 120 cm de largo y la cama de sus padres mide 180 cm de largo. ¿Qué cama mide menos?

- | | |
|---|----------------------------------|
| A | La cama de los padres mide menos |
| B | La cama de Martín mide menos |
| C | Ambas camas miden lo mismo |

2 La puerta de la sala del 3°A mide 134 cm de ancho y la puerta de la sala del 3°B mide 137 cm de ancho. ¿Qué puerta tiene un ancho mayor?

- | | |
|---|--|
| A | Ambas puertas son iguales |
| B | La puerta del 3°B tiene un ancho mayor |
| C | La puerta del 3°A tiene un ancho mayor |

3 Al comparar las siguientes cifras, ¿el símbolo que corresponde entre los números, es

$>$, $<$ o $=$?

$$642 \quad \square \quad 246$$

- A $<$
- B $>$
- C $=$

4 En el molino gris hay 736 kilos de harina y en el molino verde hay 836 kilos de harina.

¿Qué molino tiene menos kilos de harina?

- A El molino gris tiene menos kilos de harina
- B El molino verde tiene menos kilos de harina
- C Ambos molinos tienen la misma cantidad de harina