



## Ficha N°4 de Matemáticas OA27

OA 27	4° básico
Guía 4: Tema 1	Trabajemos con gráficos de barra
Meta:	Construir gráficos a partir de tablas de datos.

### Exploro



¡Hola! ¿Te acuerdas que me ayudaste a organizar datos en tablas?

Si, claro. Fue muy entretenido.



Ahora podemos hacer gráficos con esos datos.

¿En serio? ¡Vamos a hacerlos!



En el curso de estos amigos se hizo una encuesta sobre su libro favorito. Las respuestas fueron:

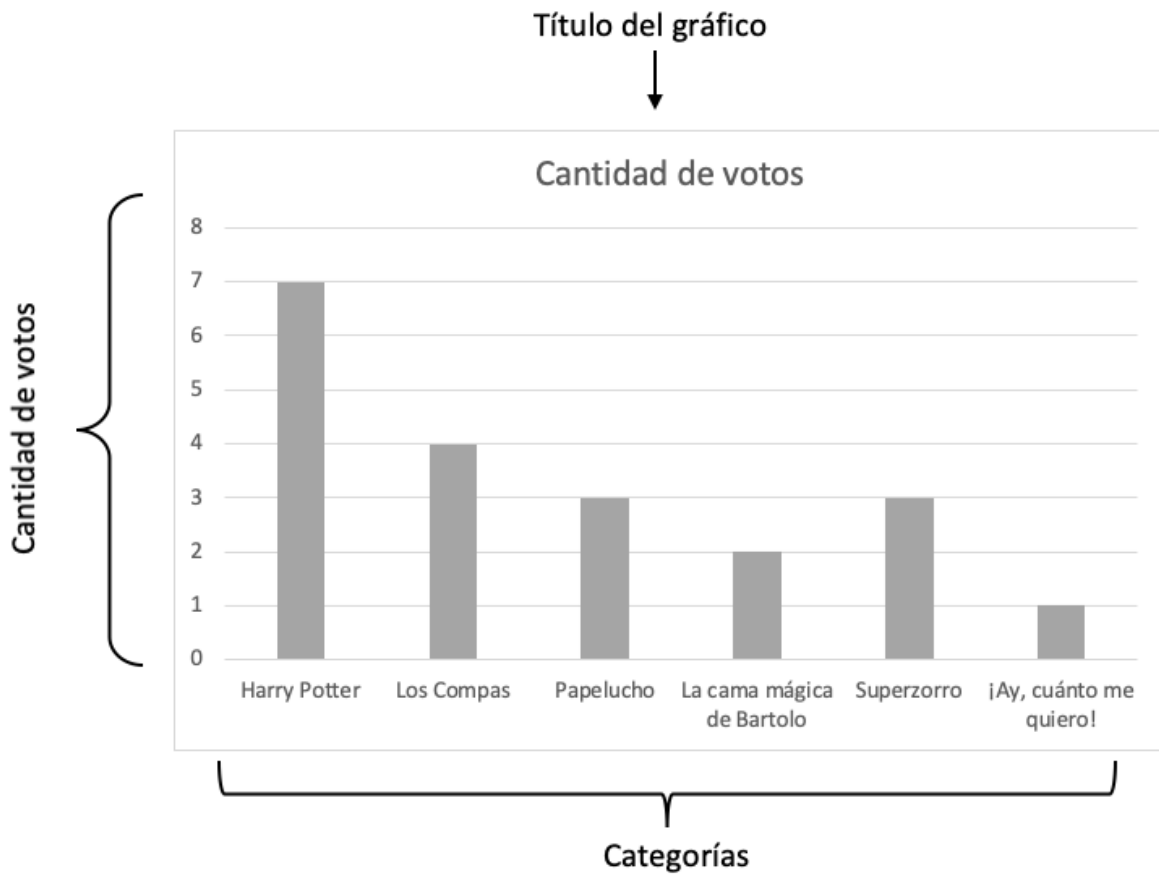
Harry Potter – Los Compas – Papelucho – La cama mágica de Bartolo – Superzorro - ¡Ay, cuánto me quiero! – Harry Potter – Harry Potter – Harry Potter – La cama mágica de Bartolo – Papelucho – Los Compas – Los Compas – Los Compas – Harry Potter – Harry Potter – Superzorro – Superzorro – Harry Potter – Papelucho

Estos datos fueron ordenados en una tabla:

Libros	Conteo	Cantidad de votos
Harry Potter	###	7
Los Compas		4

Papelucho		3
La cama mágica de Bartolo		2
Superzorro		3
¡Ay, cuánto me quiero!		1

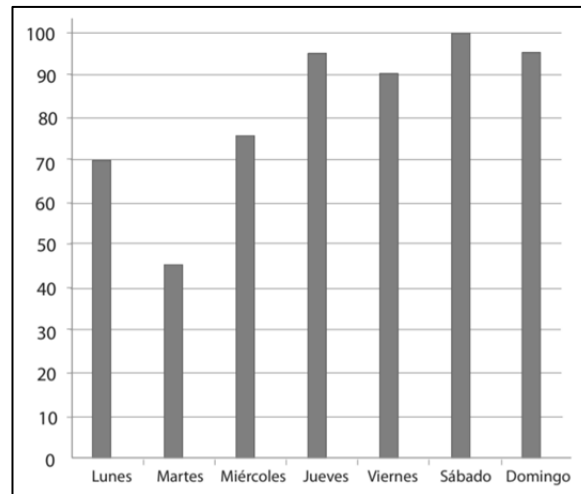
Esta información, puede registrarse ahora en un gráfico:



Un **gráfico de barras** es una forma de representar gráficamente, los datos o valores recogidos en una encuesta.

## Practico

1. Observa el siguiente gráfico que muestra la venta de camisetas de la selección de fútbol durante una semana y responde las preguntas.



a) ¿Qué día se vendieron más camisetas?, ¿cuántas se vendieron?

---

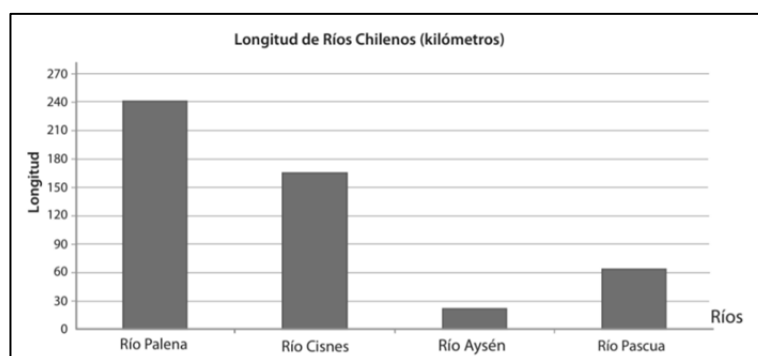
b) ¿Qué día se vendieron menos camisetas?, ¿cuántas se vendieron?

---

c) ¿Qué título le pondrías al gráfico?

---

2. Observa el siguiente gráfico y responde las preguntas.



a) ¿Qué datos representa este gráfico?

---

