



# Ficha N°6 de Matemáticas OA27

OA 27	4° básico
Guía 6: Tema 1	pictogramas
Objetivo:	laborar pictogramas, ordenando los datos encontrados.



## Represento

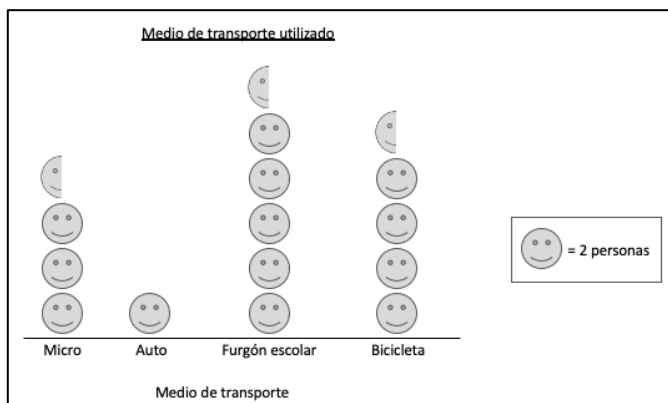
Hoy les pregunté a todos mis familiares: ¿qué medio de transporte utilizas para ir a tu escuela o al trabajo?

Medio de transporte utilizado	
Medio de transporte	Cantidades
Micro	7
Auto	2
Furgón escolar	11
Bicicleta	9

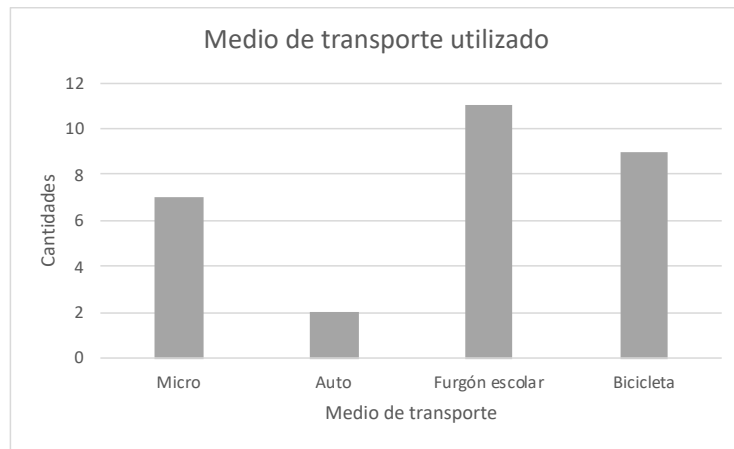
Observa cómo representamos los datos anteriores en un pictograma y en un gráfico de barras.



## Pictograma



## Gráfico de barras




Un gráfico de barra simple utiliza barras para dar a conocer los datos y un pictograma utiliza dibujos para mostrar y comparar información. **Practico**

1. Representa los datos de cada tabla en un gráfico de barras.

a) Cantidad de mujeres por curso.

Cantidad de mujeres por curso	
Curso	Frecuencia
4 A	21
4 B	18
4 C	24



Xb)

Mascotas preferidas


Mascotas preferidas	
Mascotas	Frecuencia
Perros	90
Gatos	120
Conejos	60
Hámster	30



x

c) Deporte favorito.

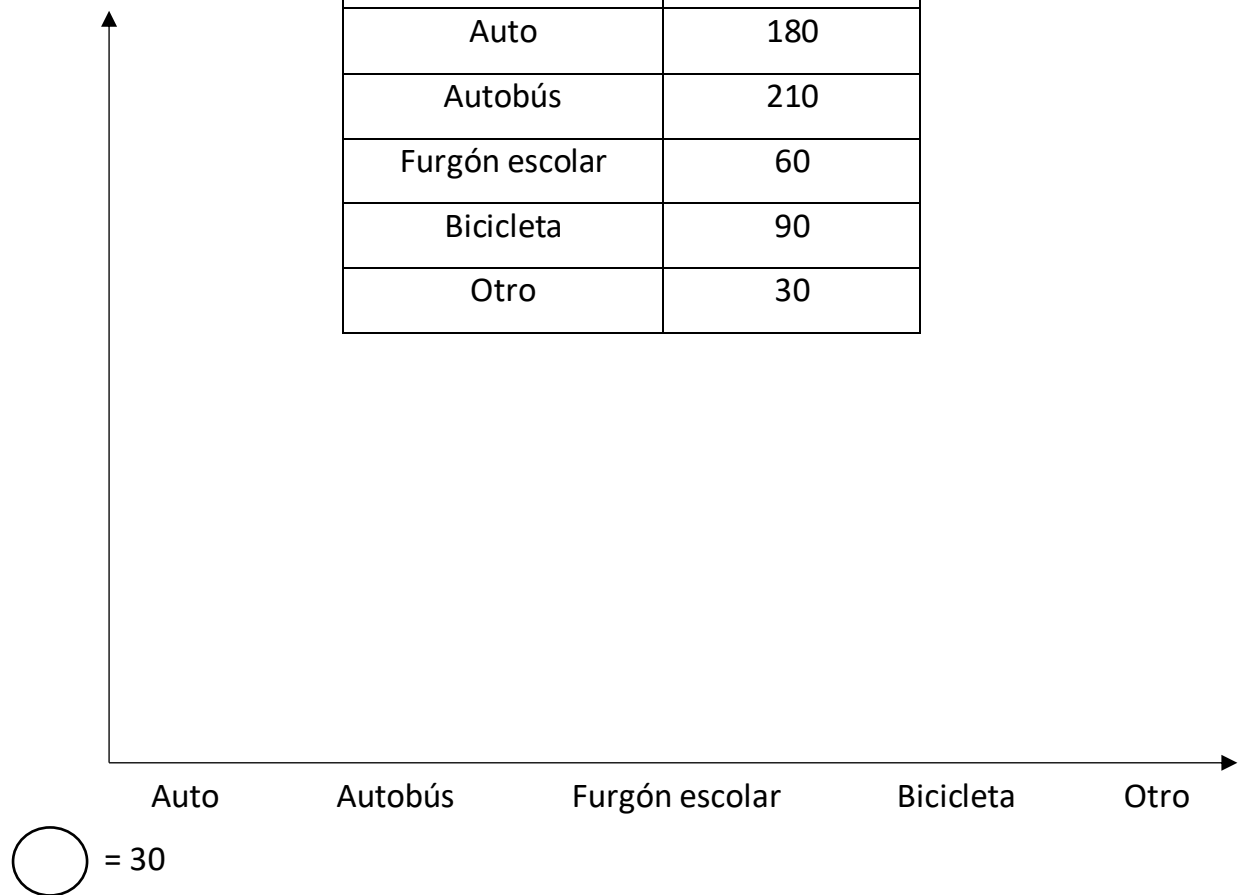
Deporte Favorito	
Deporte	Frecuencia
Tenis	25
Fútbol	125
Basquetbol	100
Balonmano	50
Otro	25



2. Representa los datos de la tabla en un pictograma.

a) Medio de transporte.

Medio de transporte	
Transporte	Frecuencia
Auto	180
Autobús	210
Furgón escolar	60
Bicicleta	90
Otro	30



b) Cosecha de frutillas.

Cosecha de frutillas	
Cursos	Frecuencia (Kilos)
José	280
Marcela	160
Paulina	240
Ángela	80
Pablo	120



= \_\_\_\_\_