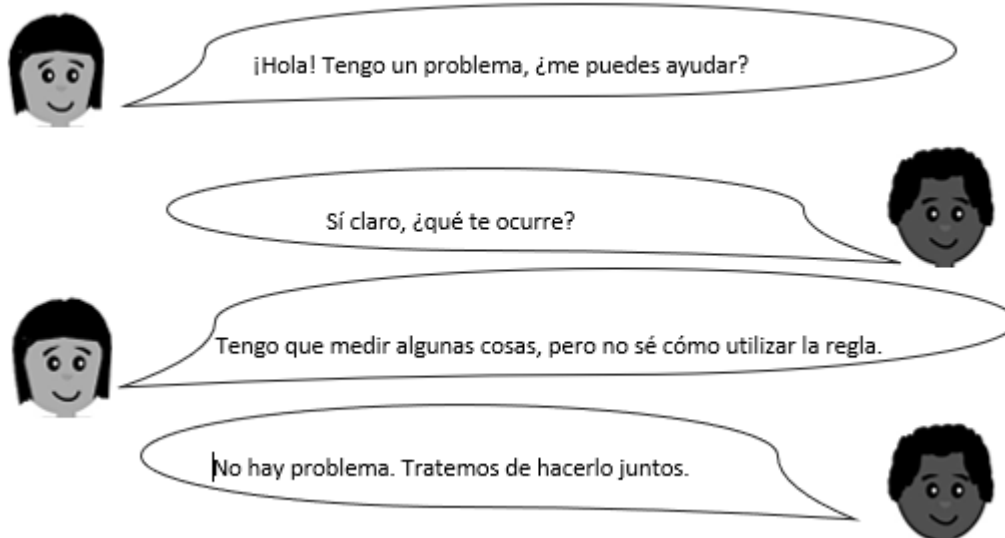





## Ficha N°1 de Matemáticas OA22

OA 22	4° básico
Guía 1: Tema 1	¿Qué podemos medir?
Meta:	Conocer unidades de medida estandarizadas.

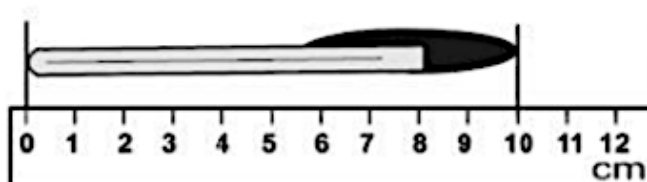


Observa cómo utilizamos la regla de medir.



Para medir una figura o un objeto podemos utilizar instrumentos como regla o huincha de medir.

Si queremos medir un objeto, debemos ubicarlo en el 0, que es el punto de partida.



El metro lo utilizamos para medir objetos de gran tamaño.

1 metro se anota así: 1 m

El centímetro lo utilizamos para medir objetos más pequeños.

1 centímetro se anota así: 1 cm

**Practico**

1. Toma una regla y mide los siguientes segmentos, de punta a punta.

a)



Mide: \_\_\_\_\_

b)



Mide: \_\_\_\_\_

c)



Mide: \_\_\_\_\_

d)



Mide: \_\_\_\_\_

2. Usando una regla, dibuja un segmento con la medida indicada.


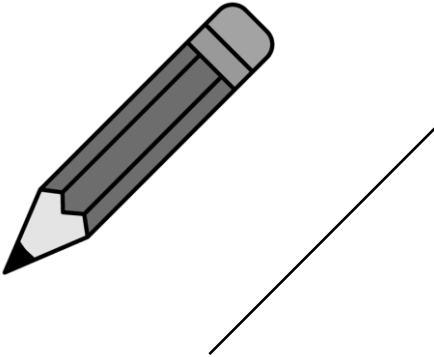


a) 5 centímetros

b) 9 centímetros

c) 18 centímetros

d) 1 centímetro

3. Estima cuál es la unidad de medida más adecuada para cada elemento y márcala con una X.

a) 	m <input type="checkbox"/> cm <input type="checkbox"/>
b) 	m <input type="checkbox"/> cm <input type="checkbox"/>
c) 	m <input type="checkbox"/> cm <input type="checkbox"/>
d) 	m <input type="checkbox"/> cm <input type="checkbox"/>