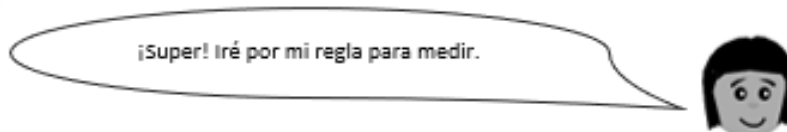
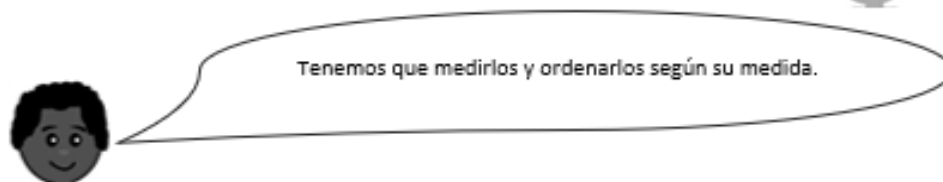

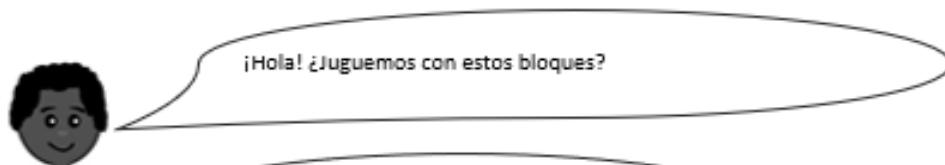




Ficha N°4 de Matemáticas OA22

OA 22	4° básico
Guía 4: Tema 1	Más grande y pequeño
Meta:	Comparar y ordenar medidas.

Exploro



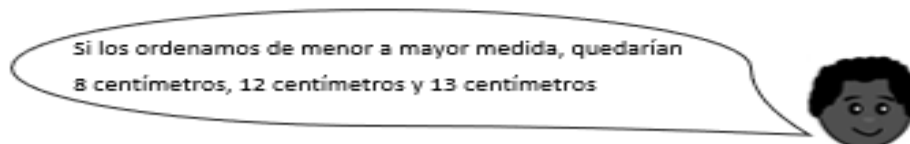
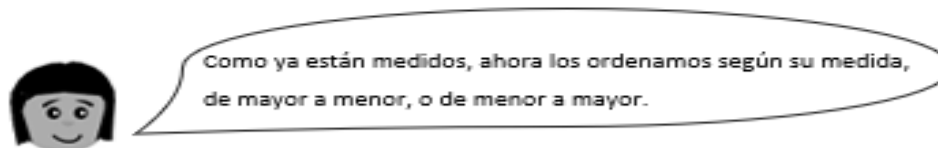
12 centímetros



13 centímetros



8 centímetros



Cuando medimos un objeto, debemos poner la regla o huincha de medir en uno de sus bordes, partiendo desde el 0.

1. Observa cada representación. Anota cuánto mide cada elemento y luego, ordénalos según lo pedido.

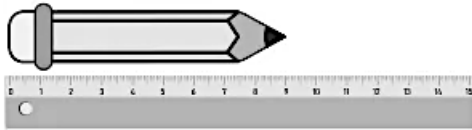
a)



Mide _____ cm.



Mide _____ cm.



Mide _____ cm.



Mide _____ cm.

Ordenados de mayor a menor:

b)



Mide _____ cm.



Mide _____ cm.




Mide _____ cm.



Mide _____ cm.

Ordenados de menor a mayor:

2. Observa la siguiente imagen y responde las preguntas.



a) ¿Cuánto mide el camello? _____

b) ¿Cuánto mide el avestruz? _____

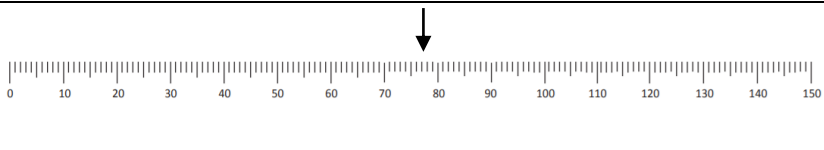
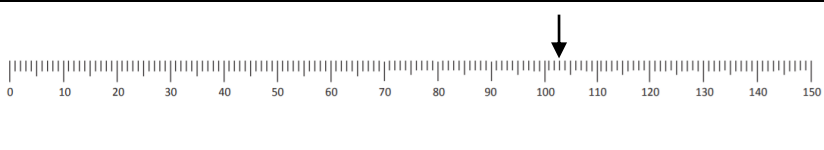
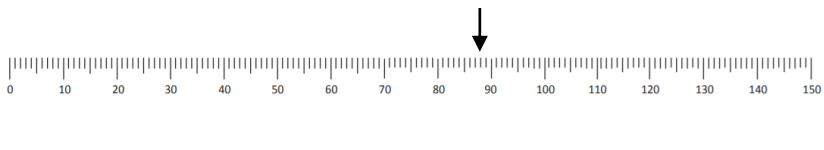
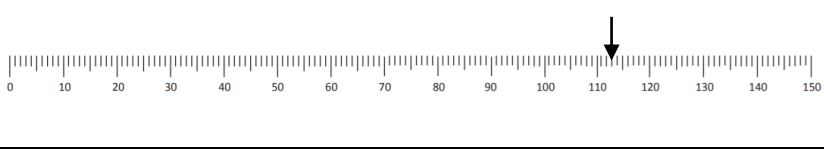
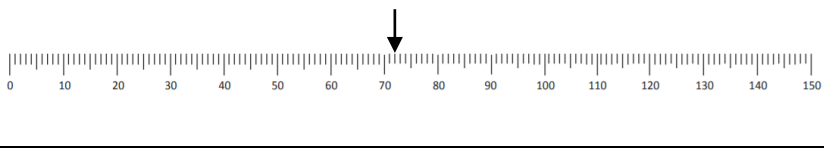
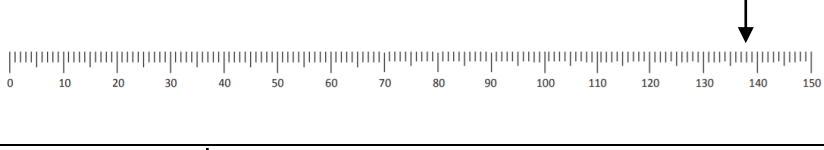
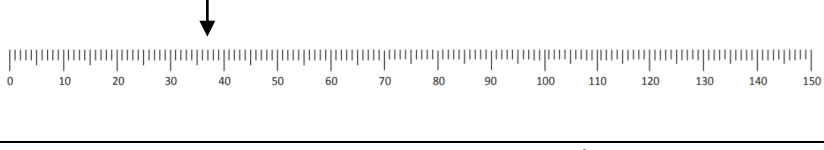
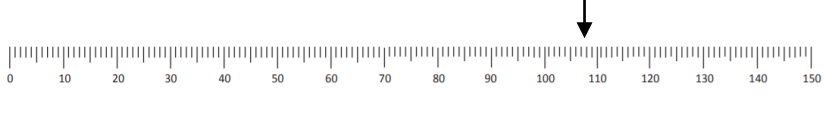
c) ¿Cuál es el animal más alto? _____

d) ¿Cuál es el animal más bajo? _____

e) ¿Cuál es la diferencia de tamaño entre el animal más alto y el más bajo?

f) ¿Cuál es la diferencia de tamaño entre el camello y el elefante?

3. Observa cada huincha de medir (están en cm) y anota la medida que marca cada flecha. Luego, escribe y ordena las medidas, de menor a mayor.

a)		Mide _____
b)		Mide _____
c)		Mide _____
d)		Mide _____
e)		Mide _____
f)		Mide _____
g)		Mide _____
h)		Mide _____

i) Medidas ordenadas de menor a mayor:
